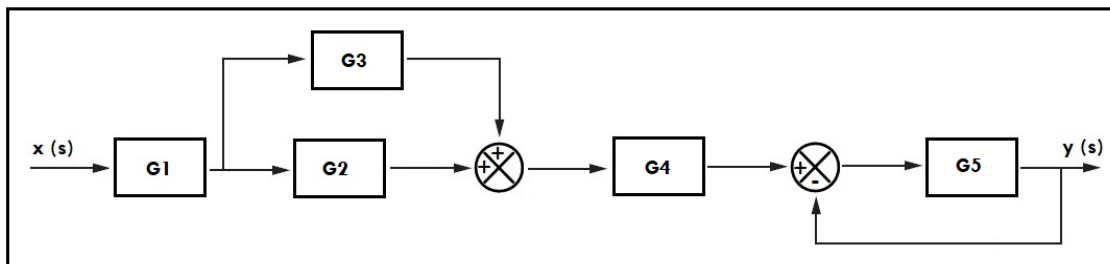


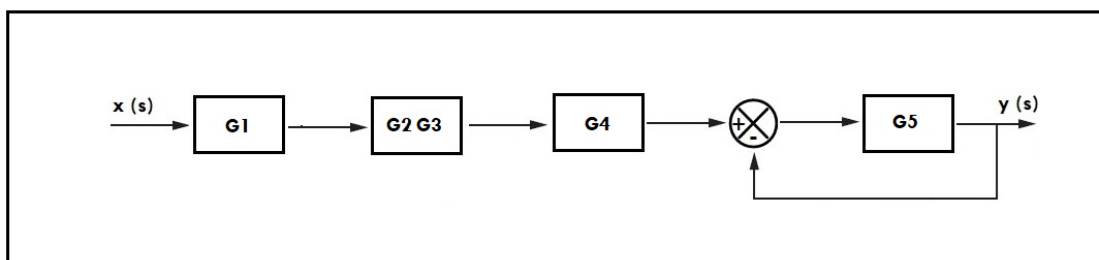
# Resolución de diagramas de bloques

Unidad de Apoyo para el Aprendizaje

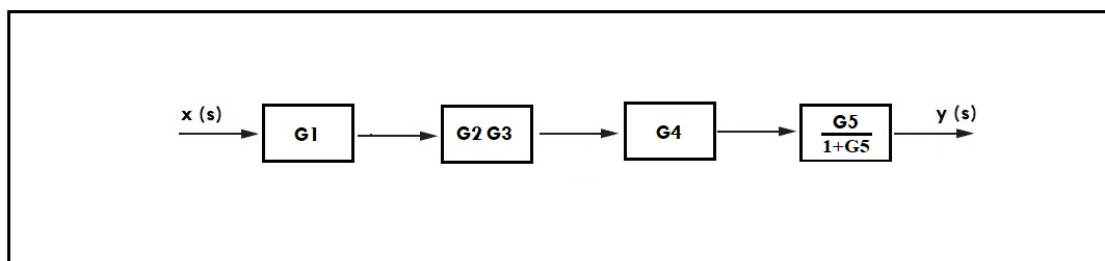
**Ejercicio 2.** Obtener la función de transferencia simplificada correspondiente al siguiente diagrama de bloques:



Paso 1: Aplicando la regla 5 de la tabla referenciada, obtenemos el siguiente diagrama:



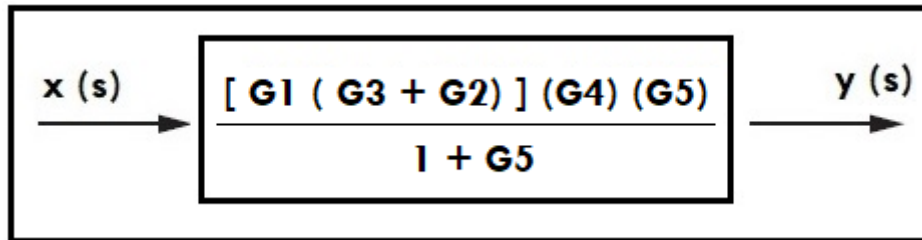
Paso 2: Ahora, aplicamos la regla 13, de esta forma obtenemos:



# Resolución de diagramas de bloques

Unidad de Apoyo para el Aprendizaje

Paso 3: Por último, aplicamos la regla 4, para concluir con el ejercicio. El diagrama queda de esta forma:



¿Lo lograste? ¡felicidades!

En caso contrario te invito a continuar practicando